

Quesito 1 (9 punti, tempo stimato 45 minuti) Si consideri un sistema di controllo a feedback unitario, caratterizzato dalla seguente funzione di trasferimento in catena diretta:

$$W(s) = K \frac{4(s-1)}{(s^2+1)}$$

1. Se ne disegnano i diagrammi di Bode e il diagramma polare per $K = 1$;
2. si calcoli il denominatore della funzione di trasferimento a ciclo chiuso;
3. si calcoli il numero di poli a parte reale positiva della funzione di trasferimento a ciclo chiuso al variare di $K \in (-\infty, +\infty)$ utilizzando sia il criterio di Nyquist che il criterio di Routh.

① DIAGRAMMI RAPPRESANTATI IN ULTIMA PAGINA

② $W_{CH}(s) = \frac{W(s)}{1+W(s)} = \frac{N(s)}{D(s)+N(s)}$

$$D_{CH}(s) = s^2 + 1 + 4K(s-1) = s^2 + 4Ks + 1 - 4K$$

③ Analisi delle stabilità con ROUTH-CARTESIO

2	1	1-4k
1	4k	0
0	1-4k	

	0	$\frac{1}{4}$	
1	+	+	+
4k	-	+	+
1-4k	+	+	-
	2V	0V	1V

$K < 0$ $M_{CH} = 2$, instabile.

$K \in (0, \frac{1}{4})$ $M_{CH} = 0$ A.S.

$K = \frac{1}{4}$, $s^2 + s = s(s+1) \Rightarrow 1$ polo nell'origine: S.S.

$K > \frac{1}{4}$ $M_{CH} = 1$, instabile.

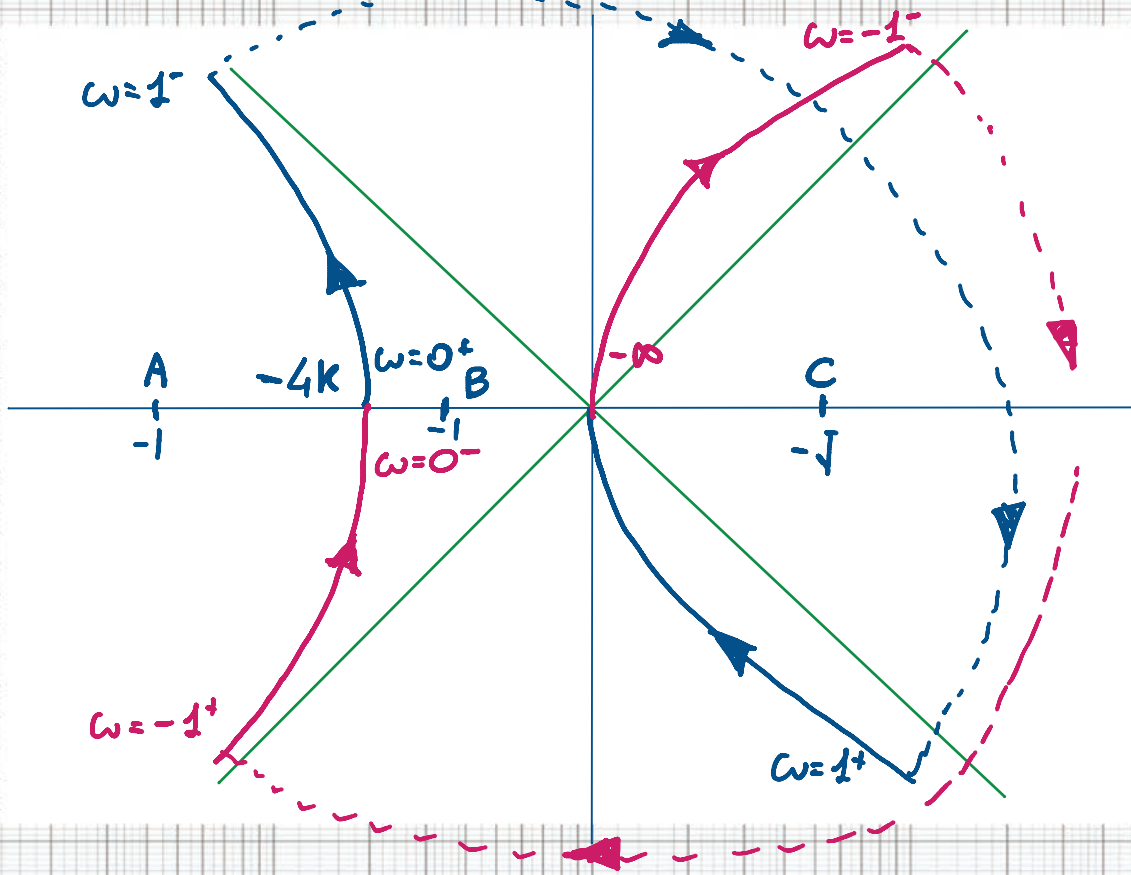
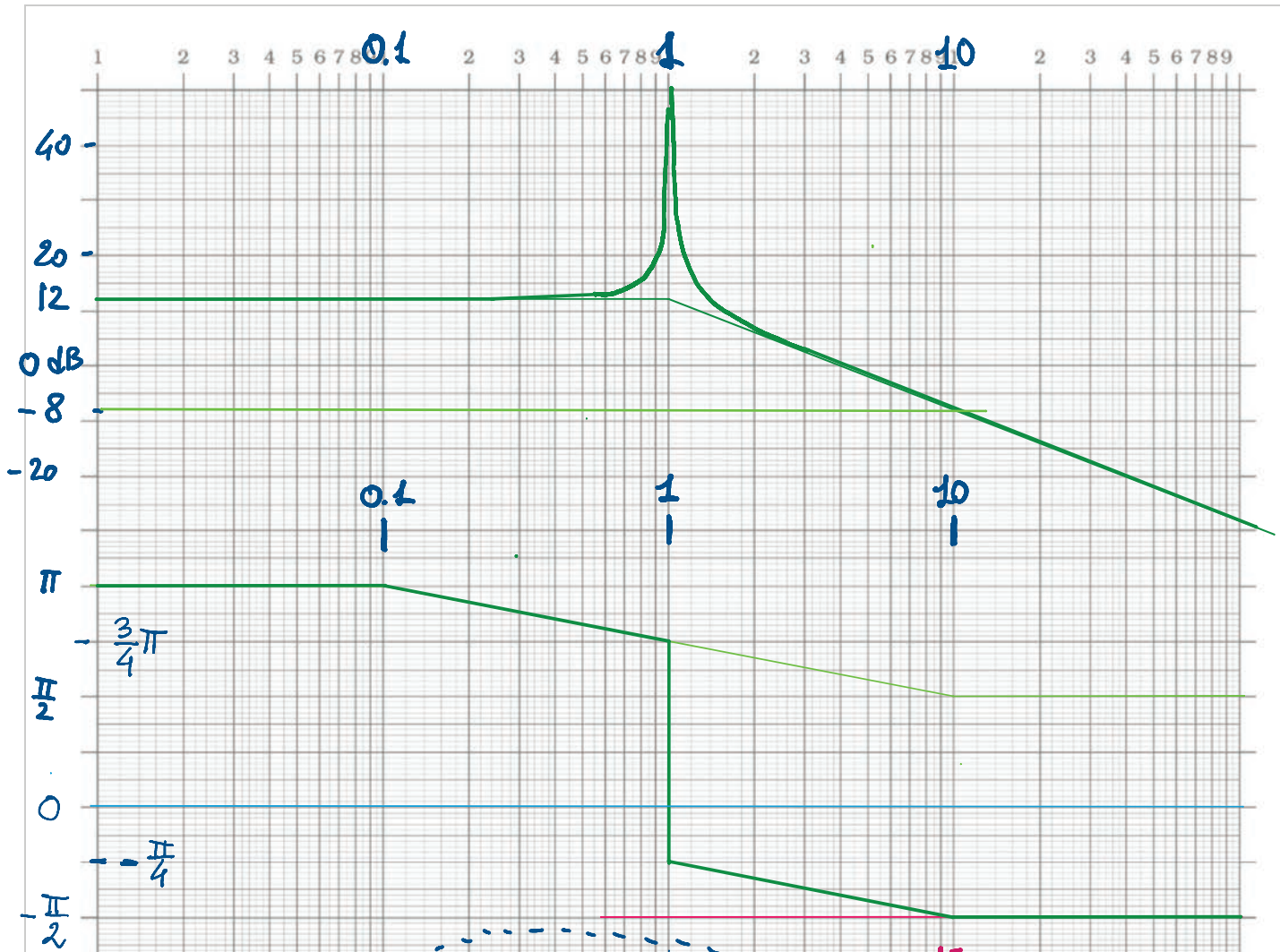
ANALISI CON NYQUIST (VEDI FIGURA)

$$M_{AP} = 0 \quad \boxed{M_{CH} = M_{AP} - N} \Rightarrow M_{CH} = -N$$

$K \in (0, \frac{1}{4})$ CASO A: $N = 0 \Rightarrow M_{CH} = 0$ A.S.

$K > \frac{1}{4}$ CASO B: $N = -1 \Rightarrow M_{CH} = 1$ INST.

$K < 0$ CASO C: $N = -2 \Rightarrow M_{CH} = 2$ INST.



Quesito 2 (5 punti, tempo stimato: 15 minuti) Sia dato un sistema lineare e stazionario a tempo continuo caratterizzato dalla seguente risposta impulsiva:

$$w(t) = e^{-t} - e^{-4t}$$

1. Si calcoli la risposta armonica all'ingresso $u(t) = 3 \sin(t)$,
2. Si calcoli per quale pulsazione ω lo sfasamento della risposta armonica rispetto all'ingresso è esattamente pari a $-\pi/2$.


①. $W(s) = \frac{1}{s+1} - \frac{1}{s+4} = \frac{s+4 - (s+1)}{(s+1)(s+4)} = \frac{3}{(s+1)(s+4)}$
 poli e parte reale negativa \rightarrow Mod. esponenzialmente stabili
 $\Rightarrow \exists$ la risposta armonica.

$$y(t) = 3 \cdot |W(j\omega)| \cdot \sin(\omega t + \langle W(j\omega) \rangle) \quad |\omega=1|$$

$$|W(j\omega)| = \left| \frac{3}{(1+j)(4+j)} \right| = \frac{3}{|1+j| \cdot |4+j|} = \frac{3}{\sqrt{1+1} \cdot \sqrt{16+1}} = \frac{3}{\sqrt{34}}$$

(Alternativa: $\left| \frac{3}{(1+j)(4+j)} \right| = \frac{3}{|4-1+5j|} = \frac{3}{\sqrt{9+25}} = \frac{3}{\sqrt{34}}$)

$$\langle W(j\omega) \rangle = \langle 3 \rangle - \langle 1+j \rangle - \langle 4+j \rangle = 0 - \text{ATAN}(1) - \text{ATAN}\left(\frac{1}{4}\right) = -1,03 \text{ rad}$$

NOTA: $\text{ATAN}(1) = \frac{\pi}{4}$ 

(Alternativa: $\langle W(j\omega) \rangle = \left\langle \frac{3}{(1+j)(4+j)} \right\rangle = \left\langle \frac{3}{3+5j} \right\rangle = -\text{atan}\left(\frac{5}{3}\right)$)

$$y(t) = \frac{9}{\sqrt{34}} \cdot \sin(t - 1,03)$$

② Per avere uno sfasamento di $-\frac{\pi}{2}$ nella risposta armonica deve essere $\langle W(j\omega) \rangle = -\frac{\pi}{2}$

Ovvero: $\text{Re}(W(j\omega)) = 0$ e $\text{Im}(W(j\omega)) < 0$

Imponiamo $\text{Re}(W(j\omega)) = 0$

$$W(j\omega) = \frac{3}{(1+j\omega)(4+j\omega)} = \frac{3}{4-\omega^2+j5\omega} = 3 \cdot \frac{4-\omega^2-j5\omega}{(4-\omega^2+j5\omega)(4-\omega^2-j5\omega)}$$

(*) DEN. Reale > 0

$$\text{Re}(W(j\omega)) = \frac{3}{(*)} (4-\omega^2) = 0$$

$$\Rightarrow \omega^2 = 4, \quad \boxed{\omega = \pm 2 \text{ rad/sec}}$$

IN ALTERNATIVA: DISEGNARE IL DIAGRAMMA DI BODE DELLE FASI E VEDERE SUL GRAFICO IL VALORE DI ω CHE DA UNO SFASAMENTO DI $-\frac{\pi}{2}$

Quesito 3 (5 punti, tempo stimato: 35 minuti) Sia dato il seguente sistema lineare e stazionario a tempo continuo

$$\begin{aligned} \dot{x}(t) &= Ax(t) + Bu(t) & A &= \begin{bmatrix} -1 & 2 & 0 \\ 0 & -2 & 0 \\ -1 & 0 & 1 \end{bmatrix} & B &= \begin{bmatrix} 1 \\ 0 \\ 0 \end{bmatrix} \\ y(t) &= Cx(t) + Du(t), & C &= [1 \ 0 \ -2], & D &= 0. \end{aligned}$$

1. Si calcoli la decomposizione spettrale della matrice A e si discutano le proprietà dei modi naturali;
2. Si determinino delle basi per i quattro sottospazi $\mathcal{X}_1, \mathcal{X}_2, \mathcal{X}_3, \mathcal{X}_4$ della decomposizione strutturale di Kalman.

Punto 1

$$|\lambda I - A| = \begin{vmatrix} \lambda+1 & -2 & 0 \\ 0 & \lambda+2 & 0 \\ 1 & 0 & \lambda-1 \end{vmatrix} = (\lambda+1)(\lambda+2)(\lambda-1)$$

Polinomio caratteristico in forma fattorizzata \Rightarrow

$$\begin{aligned} \lambda_1 &= -1 \\ \lambda_2 &= -2 \\ \lambda_3 &= 1 \end{aligned}$$

$$\boxed{\lambda_1 = -1} \quad \lambda_1 I - A = \begin{bmatrix} 0 & -2 & 0 \\ 0 & 1 & 0 \\ 1 & 0 & -2 \end{bmatrix} \Rightarrow v_1 = \begin{bmatrix} 2 \\ 0 \\ 1 \end{bmatrix} \quad e_1^T = [1 \ 2 \ 0] \cdot \frac{1}{2} \quad \left(\begin{array}{l} \text{verifica} \\ e_1^T v_1 = 1 \end{array} \right)$$

$$C v_1 = 0, \quad e_1^T B = 1 \neq 0 \Rightarrow$$

- Modo associato a $\lambda_1 = -1$
- ASINTOTICAMENTE STABILE
 - (NON) OSSERVABILE
 - ECCITABILE

$$\boxed{\lambda_2 = -2} \quad \lambda_2 I - A = \begin{bmatrix} -1 & -2 & 0 \\ 0 & 0 & 0 \\ 1 & 0 & -3 \end{bmatrix} \Rightarrow v_2 = \begin{bmatrix} 1 \\ -\frac{1}{2} \\ \frac{1}{3} \end{bmatrix} \quad e_2^T = [0 \ -2 \ 0] \quad (e_2^T v_2 = 1)$$

$$C v_2 = 1 - \frac{2}{3} = \frac{1}{3} \neq 0, \quad e_2^T B = 0 \Rightarrow$$

- Modo associato a $\lambda_2 = -2$
- ASINTOTICAMENTE STABILE
 - OSSERVABILE
 - NON ECCITABILE

$$\boxed{\lambda_3 = 1} \quad \lambda_3 I - A = \begin{bmatrix} 2 & -2 & 0 \\ 0 & 3 & 0 \\ 1 & 0 & 0 \end{bmatrix} \Rightarrow v_3 = \begin{bmatrix} 0 \\ 0 \\ 1 \end{bmatrix} \quad e_3^T = \left[-\frac{1}{2} \ \frac{1}{3} \ 1 \right] \quad (e_3^T v_3 = 1)$$

$$C v_3 = -2 \neq 0, \quad e_3^T B = -\frac{1}{2} \neq 0 \Rightarrow$$

- Modo associato a $\lambda_3 = 1$
- INSTABILE
 - OSSERVABILE
 - ECCITABILE

Punto 2

$$P_3 = [B \ AB \ A^2B] = \begin{bmatrix} 1 & -1 & -1 \\ 0 & 0 & 0 \\ 0 & 1 & 0 \end{bmatrix} \quad P = \text{Im}(P_3) = \text{span} \left(\begin{bmatrix} 1 \\ 0 \\ 0 \end{bmatrix}, \begin{bmatrix} -1 \\ 0 \\ 1 \end{bmatrix} \right)$$

$\rho(P_3) = 2$ (la III colonna è uguale alla I con segno opposto)
 $\dim(P) = 2$

Le prime due colonne di P_3

La base può essere semplificata: $P = \text{span} \left(\begin{bmatrix} 1 \\ 0 \\ 0 \end{bmatrix}, \begin{bmatrix} 0 \\ 0 \\ 1 \end{bmatrix} \right)$

$$Q_3 = \begin{bmatrix} C \\ CA \\ CA^2 \end{bmatrix} = \begin{bmatrix} 1 & 0 & -2 \\ 1 & 2 & -2 \\ 1 & -2 & -2 \end{bmatrix} \quad Q = \mathcal{N}(Q_3) = \text{span} \left(\begin{bmatrix} 2 \\ 0 \\ 1 \end{bmatrix} \right)$$

$\rho(Q_3) = 2$, la III colonna è proporzionale alla I

$\dim(\mathcal{N}(Q)) = 3 - 2 = 1$

NOTA CHE coincide con V_1

$$\mathcal{X}_1 = Q \cap P = Q = \text{span} \left(\begin{bmatrix} 2 \\ 0 \\ 1 \end{bmatrix} \right) \quad \left(\rho \begin{bmatrix} 1 & 0 \\ 0 & 0 \\ 0 & 1 \end{bmatrix} = \rho \begin{bmatrix} 1 & 0 & 2 \\ 0 & 0 & 0 \\ 0 & 1 & 1 \end{bmatrix} \right)$$

$$\mathcal{X}_2: \mathcal{X}_1 \oplus \mathcal{X}_2 = P, \quad \mathcal{X}_2 = \text{span} \left(\begin{bmatrix} 1 \\ 0 \\ 0 \end{bmatrix} \right) \quad \left(\text{oppure } \text{span} \begin{bmatrix} 0 \\ 0 \\ 1 \end{bmatrix} \right)$$

$$\mathcal{X}_3: \mathcal{X}_1 \oplus \mathcal{X}_3 = Q, \quad \mathcal{X}_3 = \{\emptyset\}$$

$$\mathcal{X}_4: (Q + P) \oplus \mathcal{X}_4 = \mathbb{R}^3 \Rightarrow \mathcal{X}_4 = \text{span} \left(\begin{bmatrix} 0 \\ 1 \\ 0 \end{bmatrix} \right)$$

Quesito 4 (4 punti, tempo stimato: 15 minuti) Sia dato un sistema lineare e stazionario a tempo discreto $x(t+1) = Ax(t)$ in cui la matrice A ha la seguente decomposizione spettrale:

$$A = (1 + j\sqrt{3}) \begin{bmatrix} 1 \\ j \end{bmatrix} [1 \quad -j] \frac{1}{2} + (1 - j\sqrt{3}) \begin{bmatrix} 1 \\ -j \end{bmatrix} [1 \quad j] \frac{1}{2}$$

Si calcoli l'evoluzione libera in corrispondenza allo stato iniziale $x(0) = [1 \quad 0]^T$.

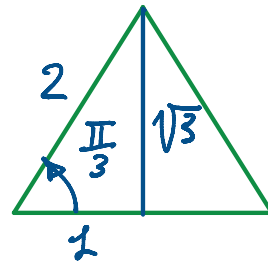
$$x_e(t) = A^t \cdot x(0)$$

$$A^t = 2 \cdot \operatorname{Re} \left((1 + j\sqrt{3})^t \cdot \begin{bmatrix} 1 \\ j \end{bmatrix} [1 \quad -j] \frac{1}{2} \right) \quad \begin{matrix} \swarrow \\ x(0) \end{matrix}$$

$$x_e(t) = A^t \cdot x(0) = \operatorname{Re} \left((1 + j\sqrt{3})^t \begin{bmatrix} 1 \\ j \end{bmatrix} [1 \quad -j] \begin{bmatrix} 1 \\ 0 \end{bmatrix} \right)$$

$$x_e(t) = \operatorname{Re} \left(|1 + j\sqrt{3}|^t \cdot e^{j \langle 1 + j\sqrt{3} \rangle t} \cdot \begin{bmatrix} 1 \\ j \end{bmatrix} \right)$$

$$|1 + j\sqrt{3}| = 2, \quad \langle 1 + j\sqrt{3} \rangle = \frac{\pi}{3}$$



$$x_e(t) = \operatorname{Re} \left(2^t \cdot e^{j \frac{\pi}{3} t} \cdot \begin{bmatrix} 1 \\ j \end{bmatrix} \right) = 2^t \operatorname{Re} \left(\left(\cos\left(\frac{\pi}{3} t\right) + j \sin\left(\frac{\pi}{3} t\right) \right) \begin{bmatrix} 1 \\ j \end{bmatrix} \right)$$

$$x_e(t) = 2^t \cdot \begin{bmatrix} \cos \frac{\pi}{3} t \\ -\sin \frac{\pi}{3} t \end{bmatrix}$$

Quesito 5 (5 punti, tempo stimato: 30 minuti) Sia dato il sistema:

$$\begin{cases} \dot{x}_1(t) = -2x_1(t) - k(x_2(t) - 1)^2 \\ \dot{x}_2(t) = 4x_1(t)(x_2(t) - 1) + (k-1)(x_2(t) - 1) \end{cases}$$

1. Si verifichi che $x_e = (0, 1)$ è un punto di equilibrio;
2. Si scrivano le equazioni del sistema nelle coordinate (ξ_1, ξ_2) definite come deviazione rispetto al punto di equilibrio ($\xi(t) = x(t) - x_e$):

$$\begin{aligned} \xi_1 &= x_1, \\ \xi_2 &= x_2 - 1, \end{aligned}$$

e si verifichi che nelle nuove coordinate il punto di equilibrio è $\xi_e = (0, 0)$.

3. Si verifichi che lo Jacobiano calcolato nel punto di equilibrio è lo stesso in entrambe le rappresentazioni del sistema.
4. Si studi la stabilità del punto di equilibrio al variare del parametro $k \in (-\infty, +\infty)$ utilizzando il metodo della linearizzazione attorno al punto di equilibrio ed eventualmente il metodo di Lyapunov, utilizzando una funzione quadratica (si scelga la rappresentazione più favorevole).

$$1. \quad f(x) = \begin{bmatrix} -2x_1 - k(x_2 - 1)^2 \\ 4x_1(x_2 - 1) + (k-1)(x_2 - 1) \end{bmatrix} \Rightarrow f(x_e) = \begin{bmatrix} 0 \\ 0 \end{bmatrix}$$

$$2. \quad \begin{cases} \dot{\xi}_1(t) = \dot{x}_1(t) \\ \dot{\xi}_2(t) = \dot{x}_2(t) \end{cases} \Rightarrow \begin{cases} \dot{\xi}_1(t) = -2\xi_1(t) - k\xi_2^2(t) \\ \dot{\xi}_2(t) = 4\xi_1(t)\xi_2(t) + (k-1)\xi_2(t) \end{cases}$$

$$3. \quad \dot{x}(t) = f(x(t)), \quad \dot{\xi}(t) = \tilde{f}(\xi(t)) \quad \tilde{f}(0) = 0$$

$$\left. \frac{df}{dx} \right|_{x_e} = \begin{bmatrix} -2 & 0 \\ 0 & k-1 \end{bmatrix}, \quad \left. \frac{d\tilde{f}}{d\xi} \right|_0 = \begin{bmatrix} -2 & 0 \\ 0 & k-1 \end{bmatrix}$$

$$4. \quad \lambda_1 = -2, \quad \lambda_2 = k-1 \Rightarrow \begin{array}{lll} k-1 < 0 & (k < 1) & x_e \text{ A.S.} \\ k-1 = 0 & (k = 1) & \text{CASO CRITICO} \\ k-1 > 0 & (k > 1) & x_e \text{ Instabile} \end{array}$$

CASO CRITICO CON LYAPUNOV

Nelle coordinate ξ

$$V(\xi) = \frac{\alpha}{2} \xi_1^2 + \frac{1}{2} \xi_2^2 \quad \begin{pmatrix} \dot{\xi}_1 \\ \dot{\xi}_2 \end{pmatrix} = \begin{pmatrix} -2\xi_1 - \xi_2^2 \\ 4\xi_1\xi_2 \end{pmatrix} = \tilde{f}(\xi)$$

$\alpha > 0$

$$\dot{V}(\xi) = \frac{dV}{d\xi} \cdot \dot{\xi} = \alpha \cdot \xi_1 (-2\xi_1 - \xi_2^2) + \xi_2 \cdot (4\xi_1\xi_2)$$

$$\dot{V}(\xi) = -2\alpha \xi_1^2 - \alpha \xi_1 \xi_2^2 + 4\xi_1 \xi_2^2$$

$$\text{Con } \alpha = 4 \Rightarrow \dot{V} = -8\xi_1^2 \leq 0 \quad \begin{array}{l} \text{Semidefinita} \\ \text{Negativa} \end{array}$$

$\Rightarrow \xi_e = 0$ sempre stabile

$$(x_e = (0, 1) \text{ S.S.})$$

Quesito 6 (4 punti, tempo stimato: 20 minuti) Sia dato il sistema:

$$\begin{cases} \dot{x}_1(t) = -2x_1(t) + x_2(t), \\ \dot{x}_2(t) = -2x_1(t). \end{cases}$$

Si considerino le tre candidate funzioni di Lyapunov:

$$V_1(x) = x_1^2 + x_2^2, \quad V_2(x) = x_1^2 + x_2^2 + 2x_1x_2, \quad V_3(x) = x_1^2 + x_2^2 - x_1x_2.$$

Si verifichi con quali di queste è possibile dimostrare la stabilità semplice o asintotica del punto di equilibrio $x_e = 0$, motivando adeguatamente la risposta.

$V_1 > 0$ def. positive (si annulla solo per $x_e = 0$)

$$\frac{dV_1}{dx} \cdot f = [2x_1 \quad 2x_2] \begin{bmatrix} -2x_1 + x_2 \\ -2x_1 \end{bmatrix} = -4x_1^2 + 2x_1x_2 - 4x_1x_2 = -4x_1^2 - 2x_1x_2 \leq 0$$

INDEFINITA

V_1 Non va bene perché \dot{V}_1 ha un segno indefinito

$$V_2(x) = x^T Q_2 x = (x_1 \quad x_2) \begin{bmatrix} 1 & 1 \\ 1 & 1 \end{bmatrix} \begin{bmatrix} x_1 \\ x_2 \end{bmatrix}$$

$$Q_2 = \begin{bmatrix} 1 & 1 \\ 1 & 1 \end{bmatrix} \quad \begin{matrix} q_{11} = 1 > 0 \\ |Q_2| = 0 \end{matrix} \Rightarrow V_2(x) \text{ Non è definita positiva}$$

(In alternativa: $V_2(x) = (x_1 + x_2)^2 \Rightarrow V_2(x) = 0 \Leftrightarrow x_1 = -x_2$)

Quindi $V_2(x) \geq 0$ SEMI DEF. POSITIVA

$V_2(x)$ NON VA BENE perché Non è def. positiva

$$V_3(x) = x^T Q_3 x = (x_1 \quad x_2) \begin{bmatrix} 1 & -\frac{1}{2} \\ -\frac{1}{2} & 1 \end{bmatrix} \begin{bmatrix} x_1 \\ x_2 \end{bmatrix}$$

$$Q_3 = \begin{bmatrix} 1 & -\frac{1}{2} \\ -\frac{1}{2} & 1 \end{bmatrix} \quad \begin{matrix} q_{11} = 1 > 0 \\ |Q_3| = 1 - \frac{1}{4} > 0 \end{matrix} \Rightarrow V_3(x) > 0 \text{ def. positiva}$$

$$\frac{dV_3}{dx} \cdot f(x) = [2x_1 - x_2 \quad 2x_2 - x_1] \begin{bmatrix} -2x_1 + x_2 \\ -2x_1 \end{bmatrix}$$

$$\begin{aligned} \dot{V}_3(x) &= -4x_1^2 + 2x_1x_2 + 2x_1x_2 - x_2^2 - 4x_1x_2 - 2x_1^2 \\ &= -6x_1^2 - x_2^2 < 0 \Rightarrow x_e = 0 \text{ A.S.} \end{aligned}$$

$V_3(x)$ è l'unica candidata ad essere definita positiva e con derivata $\dot{V}_3(x)$ definita negativa