

Cognome.....Nome.....A.A.....

Matricola.....Corso di Laurea

Domanda 1

[4 punti]

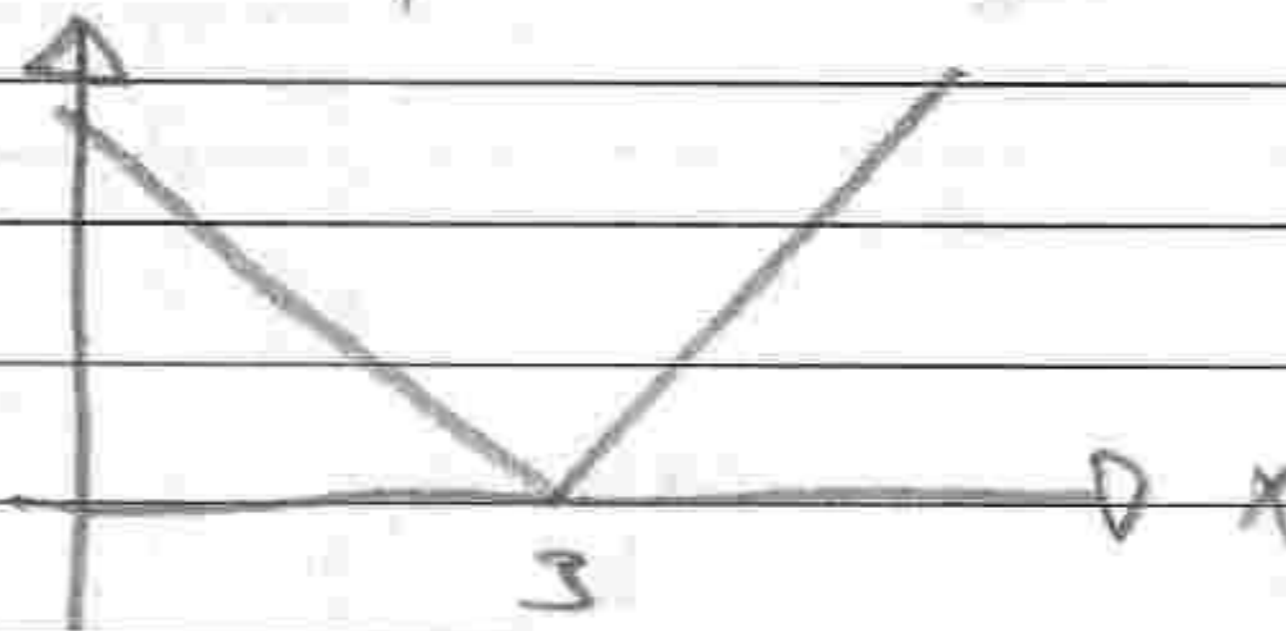
D1	
D2	
E1	
E2	
E3	
E4	
E5	
Σ	

- (i) Dare la definizione di continuità in $x_0 \in \mathbb{R}$ per una funzione $f : \mathbb{R} \rightarrow \mathbb{R}$.
- (ii) Dire se esiste una funzione $f : \mathbb{R} \rightarrow \mathbb{R}$ che è continua ma non derivabile in $x_0 = 3$. Giustificare la risposta (anche graficamente).

Risposta

(i) *cf. appunti*

(ii) *Si, p.e. $f: \mathbb{R} \rightarrow \mathbb{R}, f(x) = |x-3|$*



Domanda 2

[4 punti]

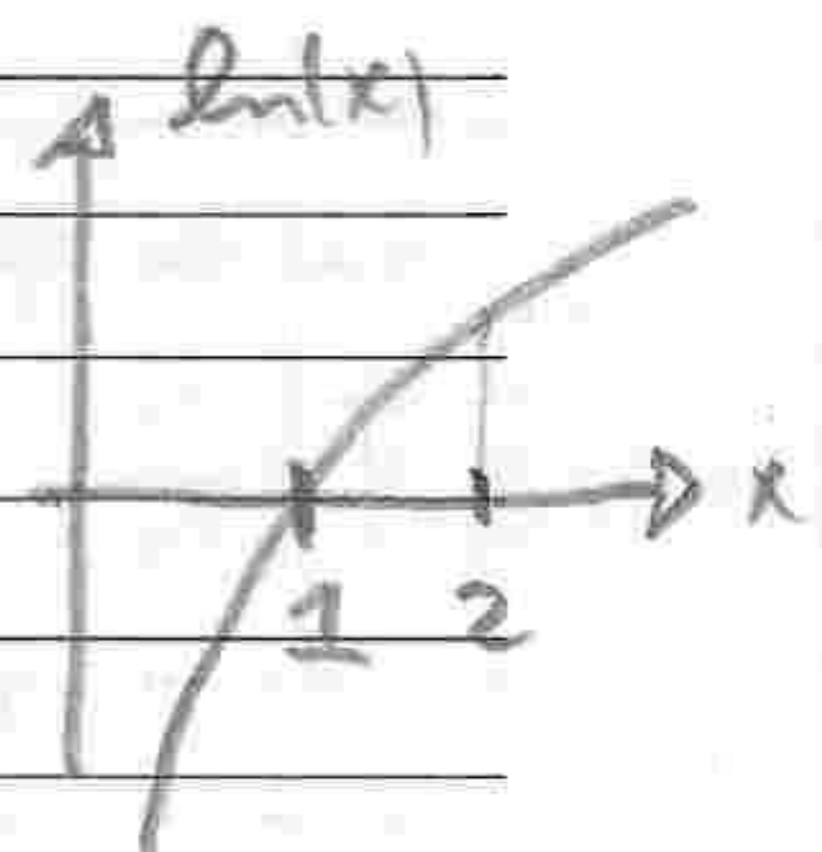
- (i) Enunciare il teorema degli zeri.
- (ii) Verificare che la funzione $f : [0, \frac{\pi}{2}] \rightarrow \mathbb{R}, f(x) = \ln(\cos(x) + e^{-x})$ ammette almeno uno zero.

Risposta

(i) *cf. appunti*

(ii) $f(0) = \ln(\overset{1}{\cos(0)} + \overset{1}{e^{-0}}) = \ln(2) > 0$

$f(1) = \ln(\overset{=0}{\cos(\frac{\pi}{2})} + e^{-\frac{\pi}{2}}) = -\frac{\pi}{2} < 0$
t.d.z.



Inoltre f è continua $\Rightarrow f$ ammette uno zero in $[0, \frac{\pi}{2}]$.

Esercizio 1

[5 punti]

Calcolare, se esiste, il limite

$$\lim_{x \rightarrow 0} \frac{e^x - \cos(x) - \ln(1+x)}{\sin^2(x)} =: h(x)$$

Risoluzione

$$\bullet \sin(x) \sim x \Rightarrow \sin^2(x) \sim x^2 \text{ per } x \rightarrow 0$$

\Rightarrow numeratore da sviluppare fino al 2° ordine:

$$\bullet e^x - \cos(x) - \ln(1+x)$$

$$= \cancel{1} + x + \frac{x^2}{2} - \left(\cancel{1} - \frac{x^2}{2!} \right) - \left(\cancel{x} - \frac{x^2}{2} \right) + o(x^2)$$

$$= \frac{x^2}{2} + \frac{x^2}{2} + \frac{x^2}{2} + o(x^2) = \frac{3}{2}x^2 + o(x^2) \sim \frac{3}{2}x^2 \text{ per } x \rightarrow 0$$

può essere sostituito

$$\Rightarrow h(x) \sim \frac{\frac{3}{2}x^2}{x^2} = \frac{3}{2}$$

$$\Rightarrow \lim_{x \rightarrow 0} h(x) = \frac{3}{2}$$

Esercizio 2

[5 punti]

Calcolare l'integrale definito

$$I := \int_1^e \overbrace{x \cdot \ln(x^2)}^{2x \ln(x)} dx$$

Risoluzione

$$I = \int_1^e \underbrace{2x}_{f'} \cdot \underbrace{\ln(x)}_g dx \stackrel{\text{i.p.f.}}{=} \underbrace{x^2}_f \cdot \underbrace{\ln(x)}_g \Big|_1^e - \int_1^e \underbrace{x^2}_{f'} \cdot \underbrace{\frac{1}{x}}_{g'} dx$$

$$= \left[x^2 \cdot \ln(x) - \frac{x^2}{2} \right]_1^e = \left[x^2 \left(\ln(x) - \frac{1}{2} \right) \right]_1^e$$

$$= e^2 \left(\ln(e) - \frac{1}{2} \right) - \underbrace{1^2}_{=0} \left(\ln(1) - \frac{1}{2} \right)$$

$$= e^2 \left(1 - \frac{1}{2} \right) + \frac{1}{2}$$

$$= \frac{e^2 + 1}{2}$$

Esercizio 3

[4 punti]

Calcolare la derivata direzionale $D_v f(1, -1)$ per $f(x, y) = xy^2 - 1$ e il versore $v = (\frac{1}{2}, \frac{\sqrt{3}}{2})$.

Risoluzione

Applichiamo il teorema del gradiente:

$$\text{grad } f(x, y) = (y^2, 2xy) \Rightarrow$$

$$\text{grad } f(1, -1) = (1, -2) \Rightarrow$$

$$D_v f(1, -1) = (1, -2) \cdot \left(\frac{1}{2}, \frac{\sqrt{3}}{2}\right)$$

$$= \frac{1}{2} - 2 \cdot \frac{\sqrt{3}}{2} = \underline{\underline{\frac{1}{2} - \sqrt{3}}}$$

Esercizio 4

[4 punti]

Calcolare, se esiste, il limite

$$\lim_{(x,y) \rightarrow (0,0)} \frac{x^4 - \overbrace{(x+y) \cdot (x-y)}^{=x^2-y^2} + y^4}{x^2 + y^2}$$

Risoluzione

Poniamo $y = m \cdot x$ per $m \in \mathbb{R} \Rightarrow$

$$\lim_{x \rightarrow 0} \frac{x^4 + x^2 - m^2 x^2 + m^4 x^4}{x^2 + m^2 x^2} =$$

$$\lim_{x \rightarrow 0} \frac{x^2 + 1 - m^2 + m^4 x^2}{1 + m^2} = \frac{1 - m^2}{1 + m^2} \quad ; \text{ dipende da } m$$

\Rightarrow il limite $\lim_{(x,y) \rightarrow \dots}$ non esiste.

Esercizio 5

[6 punti]

Trovare il dominio, eventuali zeri, asintoti, intervalli di monotonia e punti di estremo locale della funzione $f(x) = (2x^2 - 3x) \cdot e^{-x}$ e tracciarne un grafico approssimativo.

Risoluzione

• dominio: tutto \mathbb{R}

• $f(x) = 0 \Leftrightarrow (e^{-x} \neq 0 \forall x)$
 $2x^2 - 3x = 0 = x \cdot (2x - 3) \Leftrightarrow x = \begin{cases} 0 \text{ opp.} \\ 3/2 \end{cases}$

Quindi $x_0 = 0$ e $x_1 = 3/2$ sono gli zeri di f .

• asintoti: $\lim_{x \rightarrow +\infty} f(x) = \lim_{x \rightarrow +\infty} \frac{2x^2 - 3x}{e^x} = 0$ (limite notevole opp. applicare 2 volte l'Hospital)

• $\lim_{x \rightarrow -\infty} f(x) = \lim_{x \rightarrow -\infty} (2x^2 - 3x) \cdot \lim_{x \rightarrow -\infty} e^{-x}$
 $= +\infty \cdot +\infty = +\infty$

• $\lim_{x \rightarrow -\infty} \frac{f(x)}{x} = +\infty \Rightarrow$ non esiste asintoto obl.

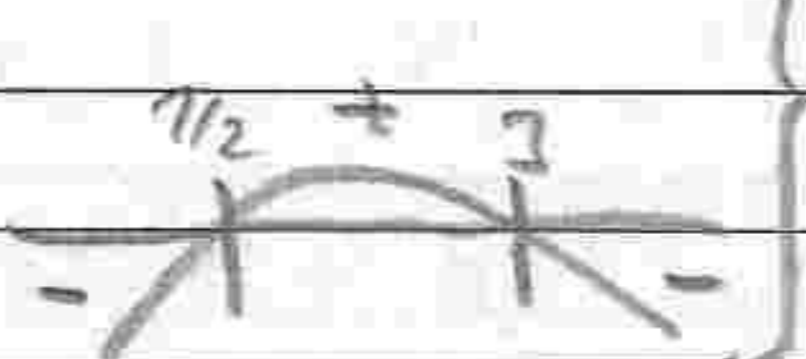
Quindi $y = 0$ è un asintoto orizzontale per $x \rightarrow +\infty$.

• studio f' : $f'(x) = (4x - 3)e^{-x} + (2x^2 - 3x)e^{-x} \cdot (-1)$
 $= (-2x^2 + 7x - 3) \cdot e^{-x}$

$\Rightarrow f'(x) = 0 \Leftrightarrow -2x^2 + 7x - 3 = 0$

$$\Leftrightarrow x = x_{2/3} = \frac{-7 \pm \sqrt{7^2 - 4 \cdot (-2) \cdot (-3)}}{-2 \cdot (-2)} = \frac{-7 \pm 5}{-4} = \begin{cases} 1/2 \\ 3 \end{cases}$$

monotonici: $e^{-x} > 0$ sempre

$-2x^2 + 7x - 3$: 

$\Rightarrow x_2 = 1/2$ è un pto. di min. loc., $x_3 = 3$ è un pto. di max. loc.

• Grafico

