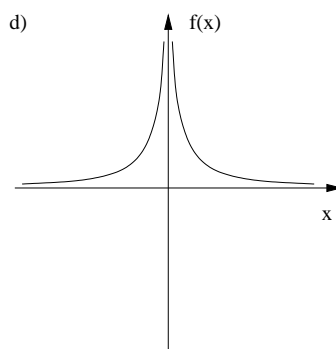
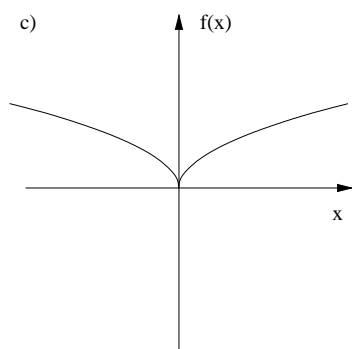
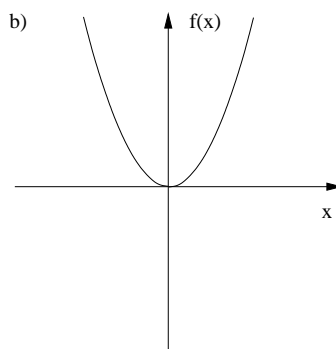
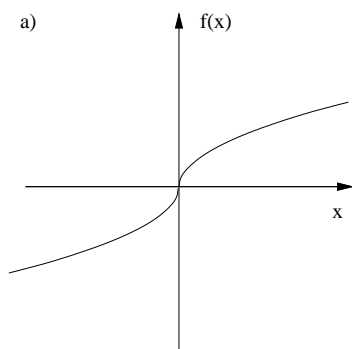


Esercizio 4

[5 punti]

Parte del grafico di $f(x) = |x|^{\frac{\pi}{4}}$ è dato da



Risoluzione

Regole per sostenere l'esame

- Si può entrare in aula solamente con penna, matita, gomma, ... e libretto universitario (o documento di riconoscimento). In particolare, non si possono portare appunti, libri, calcolatrice e cellulare.
- Il compito viene corretto solo se la risposta alla domanda 1 è esauriente.
- Il punteggio minimo per superare la prova è 18